


Mon cahier des NOMBRES

Prénom :

Classe :



Nombre du jour

Décomposition 1

Décomposition 2

Calculs :

x	

Maîtresse Coactus

BANQUE HEURISTIK

Payez contre ce chèque

€uros

Fait à _____

Le _____

Banque Heuristik
Rue du Triangle, 31415 Centre

Signature :



milliards			millions			mille			unités		
C	D	U	C	D	U	C	D	U	C	D	U

Nombre du jour



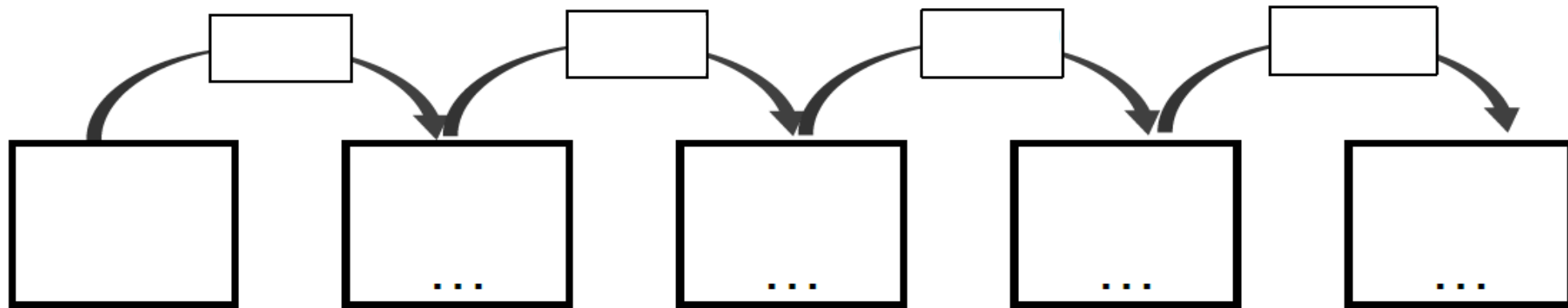
Combien y a-t-il de centaines dans ce nombre ?

Encadrement à l'unité près

----- < ----- < -----

Encadrement à la centaine près

----- < ----- < -----




Maitresse Coelus

Vérifie bien ton travail et montre le à la maitresse.

Si tu as réussi toute la première fiche, tu gagnes 3 points !

Si tu as réussi toute la deuxième fiche, tu gagnes 3 points !

Tu peux gagner des points bonus selon tes efforts alors courage !



Point(s) obtenu(s)